

令和6年度

# 入学試験問題

## 社会科

(40分)

### 注意事項

1. 「はじめ」の合図があるまで問題用紙を開かないこと。
2. 答えはすべて解答用紙に記入すること。
3. 解答用紙に受検番号と名前を記入してから始めること。
4. 質問その他、試験中に用がある場合はだまって手をあげる  
こと。
5. 「やめ」の合図があったら、すぐ筆記用具を置くこと。



地図や語句について、後の問いに答えなさい。

(1) 次の5つの大陸の地図を見て、①～③の問いに答えなさい。



(各地図の縮尺はいずれも異なります)

- ① 面積が最も大きい大陸を上のア～オから1つ選び、記号で答えなさい。
- ② 日本からの距離が最も遠い位置にある大陸を上のア～オから1つ選び、記号で答えなさい。
- ③ 北半球と南半球の両方にまたがって位置している大陸を上のア～オからすべて選び、記号で答えなさい。

(2) 次の地図中の+の地点は、日本の陸上で経度と緯度が10度単位の整数で交わる、ただ1つの地点です。この地点の北緯と東経の値をしめした下の□に共通して入る数字を書きなさい。

|    |                      |    |
|----|----------------------|----|
| 北緯 | <input type="text"/> | 0度 |
| 東経 | <input type="text"/> | 0度 |

(国土地理院地図より)

(3) 次の地形図を見て、①～②の問いに答えなさい。

(国土地理院発行の25,000分の1地形図を拡大して表示)

- ① 地図中のAには、この地域で1918年に起きた大なだれの様子をしるした自然災害伝承碑てんしょうひがあります。自然災害伝承碑を地図記号で書きなさい。
- ② 地図中のみつまたロープウェーについて述べている、次の文のア～ウにあてはまる語句をそれぞれ書きなさい。ただし、本物の地形図上でのみつまたロープウェーの長さは約3.2cmとします。また、アとイにはBかCのアルファベットが、ウには数字が入ります。

「みつまたロープウェーは、(ア)から(イ)の方向に向かって登っていくロープウェーで、長さは約(ウ)mあります。」

(4) 次の① ②の文で述べられている語句の名称めいしょうや略称りゃくしょうを、それぞれ書きなさい。

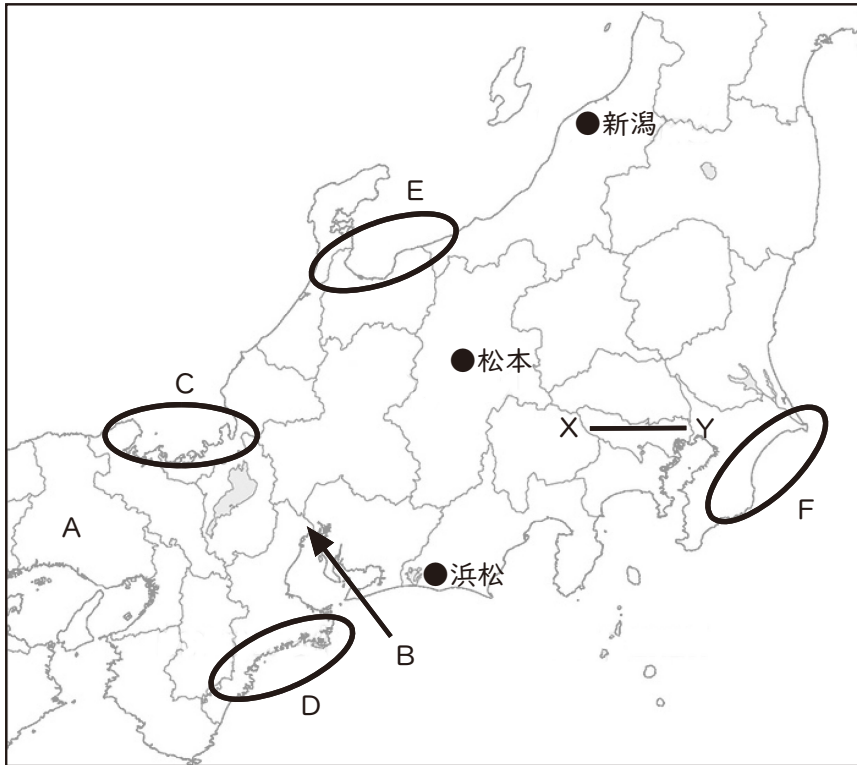
- ① 

|   |
|---|
| 石油などの天然資源の開発や漁業を自由に行うことができる、自国の沿岸から200海里(約370km)の水域の名称。 |
|---|
- ② 

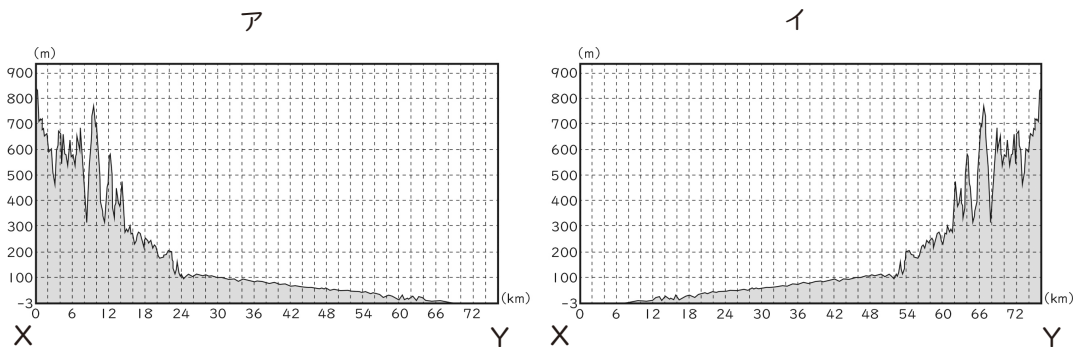
|  |
|--|
| 人間の知的な活動を、コンピュータによって再現する技術である人工知能のことをアルファベット2文字で表した略称。 |
|--|

2

下の日本地図を見て、後の問いに答えなさい。



(1) 次の2つの断面図の中から、地図中に引かれたX-Yの断面図を選び、記号で答えなさい。



(2) 次のア～エの文の中から、地図中のAの県について**まちが**間違っ**て述べた文**を1つ選び、記号で答えなさい。

- ア A県から徳島県までは、明石海峡大橋でつながっている。
- イ 大阪府から岡山県までの陸地を車で行くとき、必ずA県を通る。
- ウ 高校野球で有名な阪神甲子園球場はA県にある。
- エ A県の姫路城は、日本初の世界文化遺産に認定された。

- (3) 次の文章は、地図中のBの付近を写した下の写真について述べたものです。文章中の①～③にあてはまる語句をそれぞれ漢字2文字で書きなさい。

写真の●のあたりは、( ① ) 平野を流れる ( ② ) 川と、長良川が合流した揖斐川に囲まれた細長い島になっています。

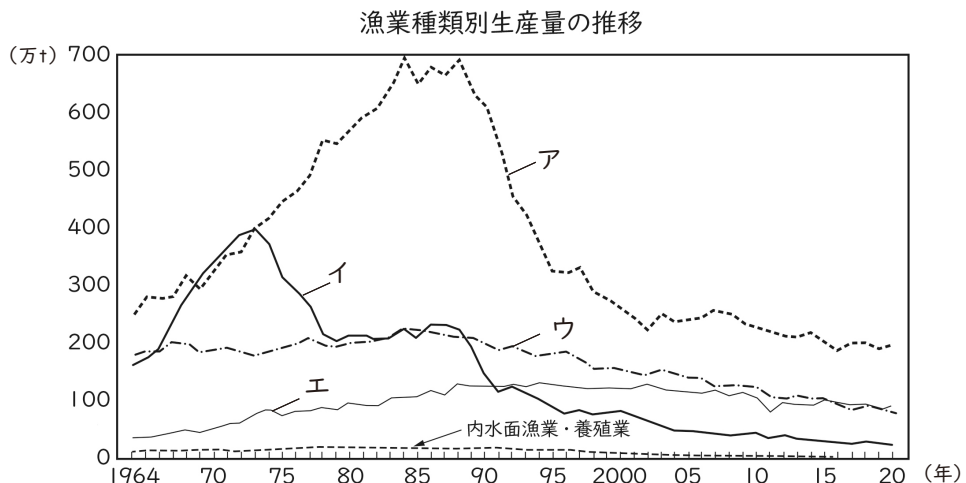
島全体が<sup>かいばつ</sup>海拔0メートル以下のため、昔から<sup>こうずい ひがい なや</sup>洪水の被害に悩まされてきました。そこで、洪水から住居や田畑を守るために、島のまわりを<sup>ていぼう</sup>堤防で囲んだり、高いところに水屋と呼ばれる建物をつくったりしてきました。このようなところを特に ( ③ ) と呼びます。

(国土地理院地図「電子国土web」より)

- (4) 次の文章を読んで、後の問いに答えなさい。

ここは、全長が約60kmもある日本最大級の<sup>すなはま</sup>砂浜海岸で、夏休みになるとたくさん<sup>さか</sup>の海水浴場に多くの観光客がやってきます。また、暖流が流れる<sup>ぎょかくだか</sup>沖合ではイワシ漁が盛んで、全国のイワシの漁獲高の3分の1をしめたこともあります。

- ① この文章で述べている特徴がある<sup>とくちょう</sup>海岸を、地図中のC～Fから1つ選び、記号で答えなさい。
- ② 文章中の下線部にある沖合で行う漁業の割合をしめたものを、次のグラフのA～Eから1つ選び、記号で答えなさい。



(「日本国勢図会2022/23」より)

(5) 地図中の内陸県（海に面していない県）について、後の問いに答えなさい。

① 次のア～エの文の中から、地図中の内陸県について間違<sup>まちが</sup>って述べた文を1つ選び、記号で答えなさい。

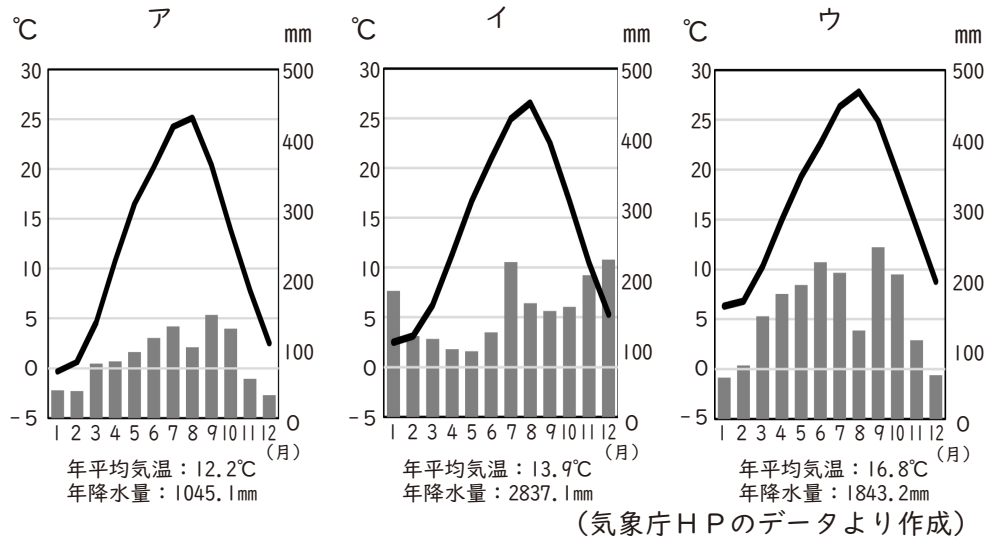
ア 内陸県の数は、全部で8つである。

イ 内陸県の中で、隣<sup>とな</sup>り合<sup>あ</sup>う都道府県が最も多いのは長野県の8県である。

ウ すべての内陸県は、他の内陸県と隣り合っている。

エ 面積が最大の内陸県は長野県で、最小の内陸県は奈良県である。

② 次のア～ウは、新潟、松本、浜松のいずれかの都市の気温と降水量のグラフです。内陸県の都市である松本の気温と降水量のグラフを、ア～ウから1つ選び、記号で答えなさい。



(6) 地図中にある関東、中部、近畿<sup>きんき</sup>の各地方のデータを比べた次の表を見て、近畿地方をあらわすものを次のア～ウから1つ選び、記号で答えなさい。

|   | 2019年度<br>農業産出額<br>(百万円) | 2019年度<br>製造品出荷額等<br>(百万円) | 2016年度<br>漁業産出額<br>(百万円) | 2019年度<br>商品販売額<br>(卸売業+小売業)<br>(百万円) |
|---|--------------------------|----------------------------|--------------------------|---------------------------------------|
| ア | 2,389,100                | 112,465,703                | 153,225                  | 224,107,931                           |
| イ | 632,600                  | 71,474,224                 | 105,228                  | 46,935,437                            |
| ウ | 512,200                  | 53,938,020                 | 84,060                   | 71,099,340                            |

(総務省統計局「e-stat」2023年版 より作成)

3 下の文章を読んで、後の問いに答えなさい。

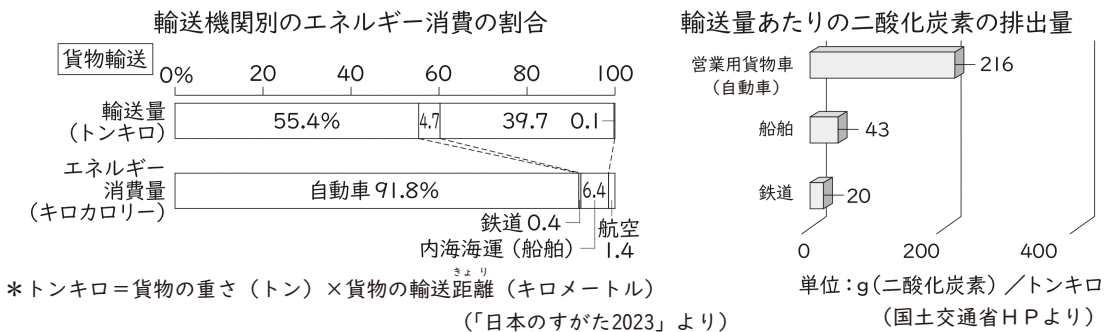
かつての日本では、国内で人を運ぶときは鉄道が、物を運ぶときは船が主流でした。しかし、1990年代以降は、いずれの場合でも A 自動車による輸送が最も多くなりました。最近では、人が移動する時に、自動車で最寄りの駅に行き鉄道を利用する「パーク&ライド」や、物を輸送する時に、途中で鉄道や船に荷物を積み替える B 「モーダルシフト」に注目が集まっています。

一方、C 物の輸出や輸入といった外国との貿易の時は、船や飛行機を使います。例えば原油は、タンカーと呼ばれる巨大な船で D サウジアラビアやアラブ首長国連邦などから輸入しています。また、金や半導体などの軽くて高価な物は E 飛行機で運ぶことが多くなっています。

(1) 文章中の下線Aの理由としてあてはまるものを、次のア～エから1つ選び、記号で答えなさい。

- ア 時間はかかるが、安い運賃で大量の人や物を運べるから。
- イ 自動車が普及し、渋滞や騒音が増加してきたから。
- ウ 費用は高いが、輸送時間が最も短い交通手段であるから。
- エ 日本中で道路整備が進み、目的地まで運びやすくなったから。

(2) 文章中の下線Bに関連した下の2つの資料について正しく述べている文を、次のア～エから1つ選び、記号で答えなさい。



- ア 貨物輸送量の割合より、エネルギー消費量の割合が多い交通機関は、自動車のみである。
- イ 鉄道を使うと、輸送量のわりにエネルギー消費量が多いため、二酸化炭素を削減できる。
- ウ 貨物輸送量が最も多い自動車は、二酸化炭素を最も排出してしまう輸送方法でもある。
- エ 船舶は鉄道よりも輸送量とエネルギー消費量が多いが、二酸化炭素の排出量は少ない。

(3) 文章中の下線Cに関連して、次の表のアとイにあてはまる国名を書きなさい。

<日本の輸出品と輸出先> (上位5カ国)

<日本の輸入品と輸入先> (上位5カ国)

| 自動車     |      | 鉄鋼   |      |
|---------|------|------|------|
| 国名      | %    | 国名   | %    |
| アメリカ    | 36.2 | (ア)  | 19.5 |
| (ア)     | 9.5  | 韓国   | 12.7 |
| オーストラリア | 7.5  | (イ)  | 11.4 |
| カナダ     | 3.1  | 台湾   | 6.5  |
| アラブ首長国  | 2.9  | ベトナム | 5.4  |

| 衣類      |      | コンピュータ |      |
|---------|------|--------|------|
| 国名      | %    | 国名     | %    |
| (ア)     | 54.1 | (ア)    | 78.5 |
| ベトナム    | 16.0 | アメリカ   | 4.2  |
| バングラデシュ | 4.1  | (イ)    | 3.9  |
| カンボジア   | 4.1  | 台湾     | 2.9  |
| ミャンマー   | 3.8  | シンガポール | 2.5  |

(「日本国勢図会2022/23」より)

(4) 文章中の下線Dに関連して、サウジアラビアで信仰が盛んなイスラム教について次のア～エの文の中から、間違って述べた文を1つ選び、記号で答えなさい。

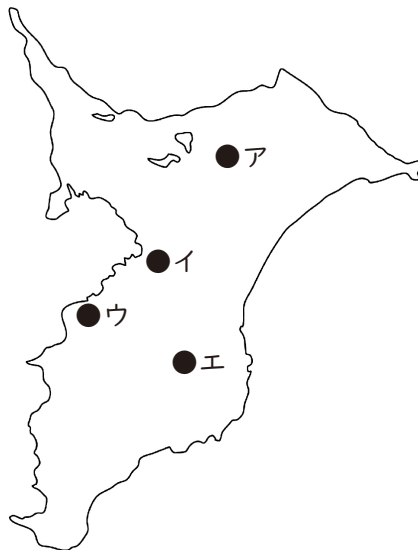
ア 1日5回、聖地のメッカに向ってお祈りをする。

イ 一生に1回はガンジス川で沐浴をする。

ウ ラマダーンと呼ばれる期間の日中は食べ物を口にしない。

エ 豚肉を食べることやお酒を飲むことを禁止している。

(5) 文章中の下線Eに関連して、貿易額が日本一多い空港の名称を書き、その位置を次の地図中のア～エから1つ選び、記号で答えなさい。





4

下の日本にある世界遺産に関する内容のカードを読んで、後の問いに答えなさい。

ア) この遺産は、1万年以上にわたり採集・漁労・狩猟により定住した人々の生活と精神文化を伝える文化遺産です。北海道・青森県・岩手県・秋田県に所在する17の遺跡で構成されています。

イ) この遺産は、α禁教時代の長崎と天草地方において、既存の社会・宗教とも共生しつつ信仰を密かに継続した「潜伏キリシタン」の伝統を物語る稀有な物語です。

ウ) この遺産は、世界経済の貿易を通じて一体化が進んだ19世紀後半から20世紀にかけて、高品質な生糸の大量生産の実現に貢献した技術交流と技術革新を示す集合体です。その結果、世界の絹産業の発展と絹消費の大衆化がもたらされました。

エ) この遺産は、瀬戸内海の島を背後にして、その入江の海のなかに木造建物が建ち並ぶ日本でも珍しい神社です。社殿構成は12世紀にはじまりましたが、その後焼失し、1241年に再建されました。海に建つ木造建物として過酷な環境下でありながら、歴代政権の厚い庇護に支えられて、古い様式を今日に伝えています。

※文章については、出題者が日本の世界遺産一覧 文化庁 (bunka.go.jp)の説明文を修正・加筆したものである。

- (1) アのカードの遺跡ができた時代と関連するものとして、間違って述べた文を次のア～エから1つ選び、記号で答えなさい。
- ア この時代の人々は、たて穴住居という家に住み、生活に必要な道具は、骨や石や木から自分たちでつくっていた。
- イ この世界遺産に登録された地域は、この時代から気候に合わせた米作りを行い、安定した食糧を得ていた。
- ウ この時代の集落では、特定の場所に食べた貝がらや動物の骨を捨てる場所を決めていた。
- エ この時代の人々は、食べ物をにたり、たくわえたりするために、ねん土を焼いてつくった土器を使用していた。
- (2) イのカードの下線部αにおいて、絵踏みなどを行わせた時代名を漢字で書きなさい。
- (3) ウのカードが説明している世界遺産の中心となる群馬県に残る施設名を漢字で書きなさい。

(4) エのカードの世界遺産に関連する人物として、適切な人物を次のア～エから1つ  
選び、記号で答えなさい。

ア

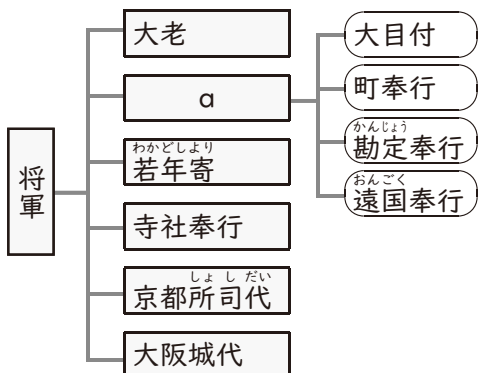
イ

ウ

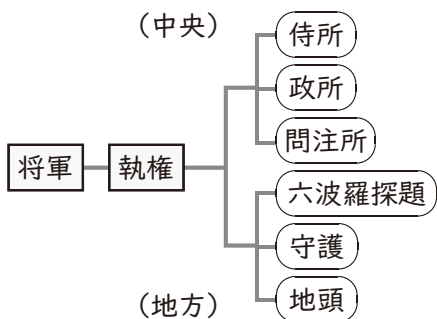
エ

5 下の2つの図を見て、後の問いに答えなさい。

【図1】 A 幕府の仕組み



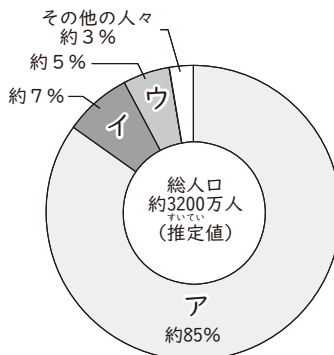
【図2】 B 幕府の仕組み



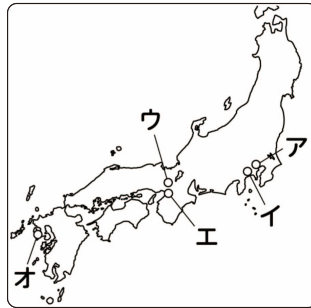
- (1) A幕府のaに入る語句を漢字で書きなさい。
- (2) Aの幕府は貿易相手に対して規制を行いました。ヨーロッパの国の中で唯一貿易が認められた国名を書きなさい。
- (3) AとBの幕府では、どちらの方が長く続いたか、AかBどちらかの記号で答えなさい。
- (4) Bの幕府の組織の中で、1221年以降に設置されたものを図の中から書き抜きなさい。
- (5) AとBの幕府の仕組みに「将軍」とあるが、それぞれ初代の将軍名を漢字で書きなさい。
- (6) 次の【資料】や【グラフ】はAの幕府の時代の人々に関するものです。【資料】の人々は何という身分に区分されるかを答え、またその身分の人口割合を示すものを【グラフ】中のア～ウから1つ選び、記号で答えなさい。

【資料】

【グラフ】 A幕府の時代の身分ごとの人口割合



- (7) 日本の歴史において、AとBの他に幕府はもう一つ存在するが、そのもう一つの幕府が置かれた地域を、次の地図のア～オから1つ選び、記号で答えなさい。



- (8) AとBのそれぞれの幕府が存在していた時期に起こったできごとやその時期に建てられた建築物の資料を、次のア～エからそれぞれ1つ選び、記号で答えなさい。

ア

イ

ウ

エ

- (9) 次の資料と関係の深い幕府はAとBどちらになるかを記号で答え、資料名もあわせて答えなさい。

- 一 大名は勉強や武芸をしっかりやらなければならない
- 一 大名は新しいお城を作ったり、古いお城を直したりするときは幕府に言わなければならない
- 一 大名は他の大名と結婚するときは幕府に許可をもらわなければならない
- 一 大名は派手な服や大きな船を持ってはいけない

6

下の4枚の写真を見て、後の問いに答えなさい。

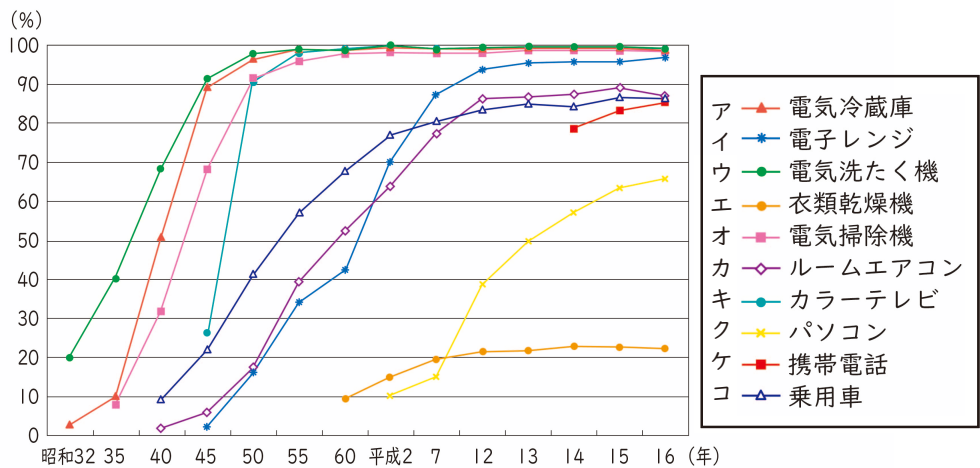
【写真1】 アジアで初となるオリンピック 【写真2】 日本の主権回復

【写真3】 ベルリンの壁の崩壊

【写真4】 婦人参政の様子

(1) 【写真1】の以後には、国民生活も豊かになり、いわゆる「3Cブーム」が起きました。その3Cとは何を表しているか、次の資料のア～コから3つ選び、記号で答えなさい。

主要耐久消費財普及率の推移



(備考) 1. 内閣府「消費動向調査」より  
 2. 電気冷蔵庫。電気洗たく機の昭和32～35年。電気掃除機の35年は非農家・都市のみ。  
 3. 乗用車の昭和40年は非農家のみ。

(第1-序-2図) 主要耐久消費財普及率の推移 白書・審議会データベース検索結果一覧 (tsuda.ac.jp)

- (2) 【写真1】の時期の日本では、下の写真のような問題が起こるようになりました。下の写真の説明として適切なものを次のア～エから1つ選び、記号で答えなさい。

|    |   |
|----|---|
| 写真 | <p>ア 工場から海に流された水銀が原因で、その周辺の人々は手足がしびれる、目や耳が不自由になるなどの症状があらわれた。</p> <p>イ 鉱山から流されたカドミウムが原因で、その周辺の人々はほねがもろく折れやすくなるなどの症状があらわれた。</p> <p>ウ 工場からの空気中に出されたガスが原因で、その周辺の人々ははげしいぜんそくの症状があらわれた。</p> <p>エ 銅山の開発により<sup>はいえん</sup>排煙<sup>こうどく</sup>、<sup>しんこく</sup>鉱毒ガス、<sup>しんこく</sup>鉱毒水などが原因で、周辺地域の農漁業に深刻な被害が出た。</p> |
|----|---|

- (3) 【写真2】において、この時の日本の内閣総理大臣の名前と、この時講和条約と同時に結ばれたアメリカとの条約名をそれぞれ漢字で書きなさい。

- (4) 【写真3】について説明した下の文章について、ア～ウの中から間違っている箇所を記号で選び、例に従って答えなさい。ただし、間違っている箇所は1つとは限りません。

例) エ ×第二次世界大戦 → ○第一次世界大戦

第二次世界大戦後、世界はアメリカと ア 中国 を中心とした2つのグループに分かれた対立が続きました。この対立は、上記の国が直接戦争には至らず、にらみ合いが続くことから「イ 冷たい戦争」と呼ばれました。この「冷たい戦争」の象徴とも言われていた ウ フランス のベルリンの壁が崩壊し、大国がにらみ合う状態が終わりました。

- (5) 【写真4】と同じ時期に、日本で行われた改革について間違って述べた文を、次のア～エから1つ選び、記号で答えなさい。

- ア 以前は政府の方針によって解散していた政党が復活した。  
 イ 小作農家も自らの土地を持てるようになった。  
 ウ 経済成長するために、特定の会社がまとめられるようになった。  
 エ 労働者の権利が保障されるようになった。

- (6) 【写真1】～【写真4】を時代の古い順に並び替え、1～4の数字で書きなさい。

7

2023年の前半に起きたできごとについて、後の問いに答えなさい。

| 月  | できごと                                   |
|----|--|
| 3月 | A 高等裁判所 が、死刑が確定していた袴田さんの裁判のやり直しを決定する   |
| 4月 | B 子ども政策 の司令塔として、こども家庭庁が発足する            |
| 4月 | 東京学芸大学が C 創立150周年(*) をむかえる             |
| 5月 | G7広島サミットで、 D 平和の実現 等について議論される          |
| 6月 | マイナンバーカードと健康保険証の一体化に関する E 法律が改正 される    |
| 6月 | 岸田内閣に対する F 内閣不信任案 が出されるが、否決される         |
| 6月 | G ジェンダー平等に関する 調査で、日本が146カ国中の125位と報告される |

(※正しくは「東京学芸大学のもととなる東京府小学教則講習所が設立されて150年」)

(1) 下線Aに関連して、高等裁判所について間違<sup>まちが</sup>って述べた文を、次のア～エからすべて選び、記号で答えなさい。

- ア 高等裁判所は、東京や大阪など全国の大都市に全部で8ヶ所ある。
- イ 高等裁判所に控訴することはあるが、上告することはない。
- ウ 高等裁判所の裁判官は、国民審査によってやめさせられることがある。
- エ 高等裁判所で、裁判員による裁判が行われることはない。

(2) 下線Bに関連して、世界中の子どもたちが抱えている問題を解決するために活動している国連児童基金のことを、カタカナ4文字で書きなさい。

(3) 下線Cに関連して、ここ数年で創立150周年をむかえる小学校が多い理由である約150年前にあった教育に関するできごとを、次のア～エから1つ選び、記号で答えなさい。

- ア 小学校6年、中学校3年の義務教育制度が始まった。
- イ 教育勅語<sup>ちよくご</sup>が発表され、学校では天皇中心の国作りの教育が行われた。
- ウ 学制を定め、6歳以上のすべての子どもが小学校教育を受けられるようにした。
- エ 庶民<sup>じよみん</sup>の子どもは寺子屋に、武士の子どもは藩校<sup>はんこう</sup>に通うことが多くなった。

- (4) 下線Dに関連して、戦争の放棄を明記した、以下の憲法9条第2項の（ ）にあてはまる語句を漢字で書きなさい。

前項の目的を達するため、陸海空軍その他の戦力は、これを保持しない。国の（ ）は、これを認めない。

- (5) 下線Eに関連して、法律の制定や改正について正しく述べた文を、次のア～エから1つ選び、記号で答えなさい。

- ア 衆議院で可決、参議院で否決をした時は、衆議院で出席議員の過半数以上の賛成で再び可決すれば法律となる。
- イ 可決された法律を国民に公布するのは天皇の仕事である。
- ウ 法律案の審議は、必ず衆議院が先にしなければならない。
- エ 衆議院と参議院の議決が一致しないときは、公聴会を開かなければならない。

- (6) 下線Fの不信任案が可決された場合に、おこる可能性のある政権交代についてしめした下の図について答えなさい。

〔図〕 政権交代までの流れの一例

- ① 右の図のaに入る語句を漢字で書きなさい。

景気が悪化し、内閣への不信感が高まる

- ② 右の図のbに入る語句を、次のア～エから1つ選び、記号で答えなさい。

↓

衆議院が不信任決議を可決

- ア 臨時国会
- イ 特別国会
- ウ 参議院の緊急集会
- エ 通常国会

↓

内閣が衆議院を（ a ）

- ③ 右の図のcに入る語句を漢字で答えなさい。

↓

総選挙で野党圧勝 政権交代へ

- ④ 右の図のように、国会の信任に基づいて内閣がつくられ、内閣が国会に対して責任を負うしくみを、漢字5文字で書きなさい。

↓

（ b ）召集、内閣総辞職  
衆参両院で新首相を（ c ）

- (7) 下線Gに関連して、「すべて国民は、法の下に平等」と定めたのは、憲法第何条の条文ですか。